

ŠKOLSKO/OPĆINSKO/GRADSKO NATJECANJE IZ GEOGRAFIJE 2015. GODINE

Razred ili kategorija natjecanja: 2. razred

Zaporka

--	--	--	--	--

Broj postignutih bodova ____ / 70

Potpis članova Školskog povjerenstva

1. _____

2. _____

3. _____

Mjesto i nadnevak: _____

Za rješavanje zadataka predviđeno je 60 minuta.

Ispit se rješava kemijskom olovkom s plavom tintom koja se ne briše. Uporaba obične olovke i crvene ili neke druge boje tinte (osim plave) rezultira diskvalifikacijom učenika.

Pri rješavanju ispita treba primijeniti jezičnu normu standardnoga hrvatskoga jezika, posebice treba poštivati pravopisna pravila o pisanju velikoga i maloga početnog slova geografskih imena. Za pisanje geografskih imena u ispitima i praktičnim radovima primjenjuje se Hrvatski pravopis Instituta za hrvatski jezik i jezikoslovlje (2013.).

Odgovori učenika moraju biti čitljivo napisani pisanim slovima, jedino u zadacima u kojima je odgovor jedno slovo dopuštena je uporaba čitljivo napisanog velikog tiskanog slova.

Za vrijeme pisanja ispita ne smije se koristiti ništa osim navedenoga pribora za pisanje. Ova odredba podrazumijeva da natjecatelji ne smiju kod sebe (na sebi, ispod, u svojoj odjeći i slično) imati predmete koji na bilo koji način mogu dovesti u sumnju pravilno provođenje natjecanja. Učenici se ne smiju služiti atlasom, zidnom kartom ni računalom. Kartografski i grafički prilozi nužni za rješavanje zadataka sastavni su dio ispita.

Učenicima se dopušta pisanje po marginama i praznim stranicama ispitnog materijala bez oduzimanja bodova i/ili diskvalifikacije.

Potpuno ispravno riješeni zadatci, prema uputi za rješavanje vrednuju se s jednim, dva ili tri boda. U djelomično ispravno riješenim zadacima boduju se ispravno riješene čestice, ako nije bilo korekcije odgovora u tim česticama. Netočno riješeni zadatci i naknadno ispravljeni odgovori te odgovori koji su pisani velikim tiskanim slovima ili kombinacijom tiskanih i pisanih slova, kao i odgovori u zagradama ne vrednuju se.

U PRVA TRI ZADATKA JEDAN JE ODGOVOR TOČAN. ZAOKRUŽI SLOVO ISPRED TOČNOG ODGOVORA.

- 1** ☐ 1. Koji je portugalski prekomorski posjed 1999. godine vraćen Kini?
- a) Hong Kong b) Macao c) Sečuan d) Tajvan
- 1** ☐ 2. Koja od navedenih zemalja nikada nije bila nizozemska kolonija, iako je ime dobila prema jednoj od nizozemskih provincija?
- a) Indonezija b) Maroko c) Novi Zeland d) Surinam
- 1** ☐ 3. Koji od navedenih kontinenata 2014. godine ima najveću stopu smrtnosti dojenčadi?
- a) Afrika b) Azija c) Australija d) Južna Amerika

U SVAKOM OD SLJEDEĆA TRI ZADATKA DVA SU TOČNA ODGOVORA. ZAOKRUŽI SLOVA ISPRED TOČNIH ODGOVORA.

- 2** ☐ 4. Koje su od navedenih religija danas dominantne u Kini?
- a) budizam b) hinduizam c) judaizam
d) konfucijanizam e) šintoizam
- 2** ☐ 5. Koji su među navedenim jezicima službeni na prostoru cijele Indije?
- a) engleski b) francuski c) hindski
d) sanskrt e) urdski
- 2** ☐ 6. Koje su se od navedenih antičkih grčkih kolonija nalazile na području današnje Italije?
- a) Halikarnas b) Kume c) Epetij
d) Efez e) Sirakuza

U SLJEDEĆA TRI ZADATKA POVEŽI DESNI STUPAC S LIJEVIM UPISIVANJEM SAMO JEDNOG SLOVA NA CRTU ISPRED POJMA U LIJEVOM STUPCU. TRI SU POJMA U DESNOM STUPCU VIŠAK.

- 3** ☐ 7. Poveži primjere država s odgovarajućim stopama nataliteta posljednjih pet godina.
- | | |
|-------------|--------------|
| ___ < 15 ‰ | A) Angola |
| ___ 16-25 ‰ | B) Etiopija |
| ___ 26-35 ‰ | C) Francuska |
| | D) Indija |
| | E) Jemen |
| | F) Niger |

8. Poveži jezike s jezičnim porodicama kojima pripadaju.

A) armenski

B) hebrejski

C) kazaški

D) malajski

E) nepalski

F) urdu

9. Poveži religije s državama u kojima one danas prevladavaju.

A) kršćanstvo

B) islam

C) judaizam

D) budizam

E) hinduizam

F) konfucijanizam

**U SLJEDEĆIH PET ZADATAKA POVEŽI PAROVE UPISIVANJEM SLOVA NA CRTU
ISPRED PONUĐENIH ODGOVORA. TRI CRTE MORAJU OSTATI PRAZNE.**

10. Navedene vrste populacijske politike pridruži odgovarajućim obilježjima.

A) eugenička

B) pronatalitetna

____ ograńičava zapošljavanje

_____ onemogućava umjetnu oplodnju

____ ograničava pravo na potomstvo

____ podupire visoki fertilitet

___ potiče rastave braka

11. Navedene demografske pojmove pridruži pripadajućim opisima.

A) fiziološka gustoća

B) agrarna gęstość

_____ pokazuje broj stanovnika na jedinici obradive površine

_____ pokazuje broj gradskog stanovništva na jedinici površine

— pokazuje broj poljoprivrednog stanovništva na jedinici poljoprivredne površine

_____ pokazuje broj poljodjelaca na jedinici oraničnih površina

_____ pokazuje broj stanovništva seoskog područja na jedinici površine

- 2** 12. Navedene godine pridruži odgovarajućem procijenjenom broju stanovnika na Zemlji.
- A) 1. god. B) 1750. god.
- ___ 116 mil. ___ 256 mil. ___ 500 mil. ___ 900 mil. ___ 2 mlrd.

- 2** 13. Navedene pojmove pridruži pripadajućim opisima.
- A) fiziološki natalitet B) opća stopa fertiliteta
- ___ najviši mogući natalitet
- ___ najniži mogući natalitet
- ___ smrtnost djece
- ___ omjer stope mladog i zrelog stanovništva
- ___ odnos broja živorođene djece i ukupnog ženskog stanovništva u dobi od 15 do 49 godina

- 2** 14. Navedenim državama pridruži odgovarajući redoslijed sektora djelatnosti prema udjelu zaposlenih u njima.
- A) Indija B) Ujedinjeno Kraljevstvo
- ___ III-I-II ___ III-II-I ___ II-I-III ___ II-III-I ___ I-III-II

U SLJEDEĆIH DESET ZADATAKA DOPUNI REČENICE.

- 2** 15. Najvažnija sveta rijeka za hinduse je _____ (*upiši ime*),
a najsvetiji grad uz njegovu obalu na području Indije je
_____ (*upiši ime*).
- 1** 16. Današnje ime američkog grada koji se od 1626. do 1664. zvao New Amsterdam je _____.
- 2** 17. Prema kriteriju udaljenosti, migracije stanovništva iz Gospića u Zagreb ubrajamo u _____ migracije (*upiši vrstu migracija*). Prema kriteriju učestalosti, prostorno kretanje radne snage iz mjesta stanovanja u centre rada i povratak u mjesto stanovanja ubrajamo u _____ cirkulacije (*upiši vrstu cirkulacije*).

- 2 18. Prema popisu stanovništva iz 2011. godine naselje je imalo 100 000 stanovnika. Godine 2011. natalitet je iznosio 1500 osoba, a mortalitet 1100 osoba. Izračunaj apsolutnu prirodnu promjenu i stopu prirodne promjene. Apsolutna je promjena iznosila _____ osoba, a stopa prirodne promjene _____ %.

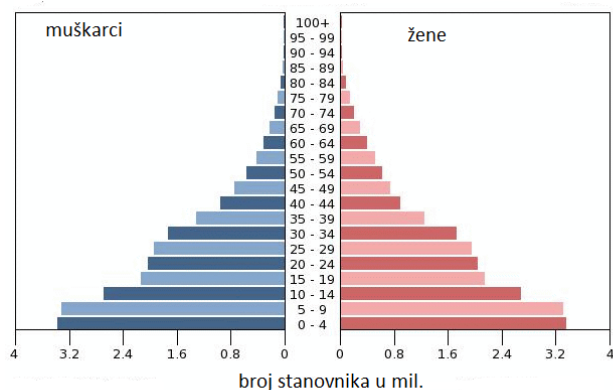
Prostor za računanje

- 2 19. Kina je primjer države koja je provodila _____ populacijsku politiku, a Švedska je primjer države koja provodi _____ populacijsku politiku (*upiši tip*).
- 2 20. Ratni sukobi u nekoj državi su primjer _____ faktora, a razvijeno gospodarstvo je primjer _____ faktora migracija.
- 2 21. U transhumantnom stočarstvu ljudi su sa stokom tijekom _____ (*upiši godišnje doba*) boravili u planinama, a tijekom _____ (*upiši godišnje doba*) u nizinama.
- 2 22. U svijetu se, po spolu, rađa više _____ djece, a u razvijenim državama u staroj dobnoj skupini, po spolu, prevladavaju _____.
- 2 23. U najrazvijenijim državama svijeta najmanji broj stanovnika radi u _____ sektoru djelatnosti, dok većina njihovog stanovništva radi u _____ sektoru djelatnosti.
- 2 24. *Brain drain* ili odljev mozgova je proces iseljavanja _____ radne snage, najčešće iz slabije razvijenih u visoko razvijene države svijeta. Ako je to pretežno muška radna snaga u dobi od 20 do 40 godina, prisutna je selektivnost migracija prema _____.

SLJEDEĆA DVA ZADATKA RIJEŠI UZ POMOĆ PRILOŽENIH DIJAGRAMA.

2

25. Prema obilježjima dobne strukture, tip stanovništva prikazan na priloženom dijagramu nazivamo _____ stanovništvo.



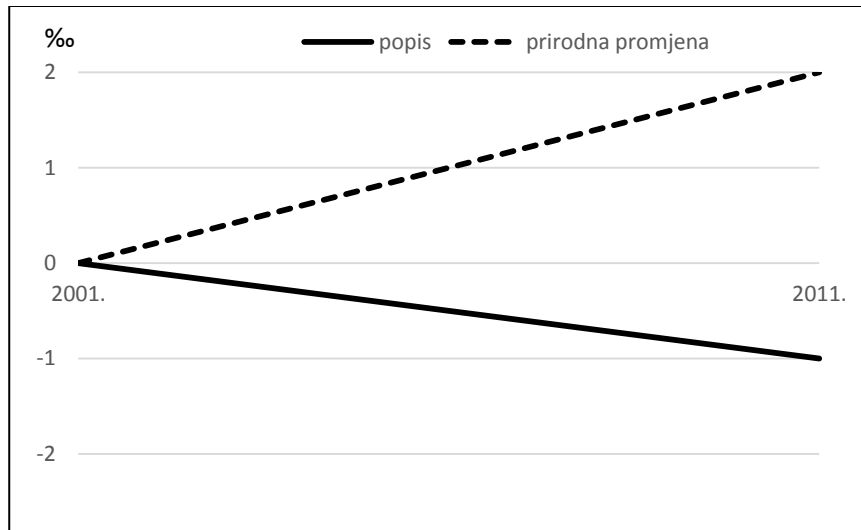
Koja od navedenih država ima tip stanovništva prikazan na priloženom dijagramu?

Zaokruži slovo ispred točnog odgovora.

- a) Kanada b) Kenija c) Kina d) Kolumbija

2

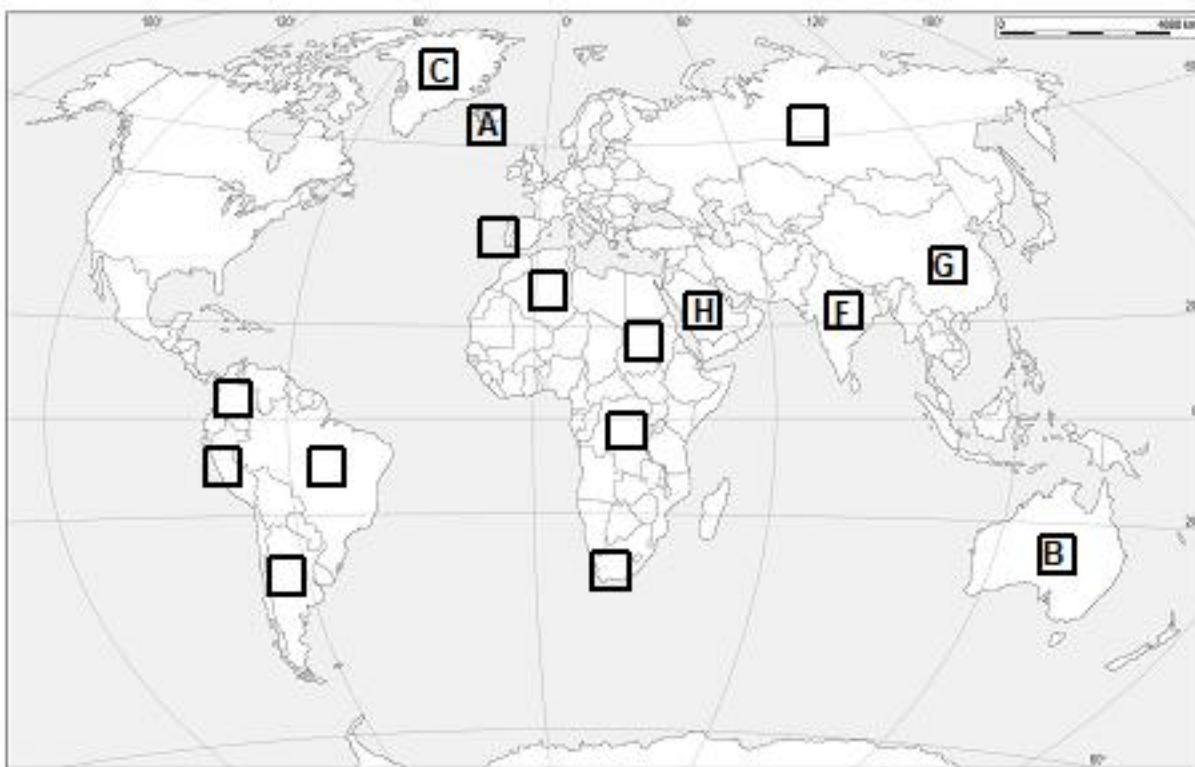
26. Sljedeći dijagram prikazuje E2 tip općeg kretanja stanovništva.



Puni naziv tipa i trenda općega kretanja stanovništva prikazanog na priloženome dijagramu je _____.

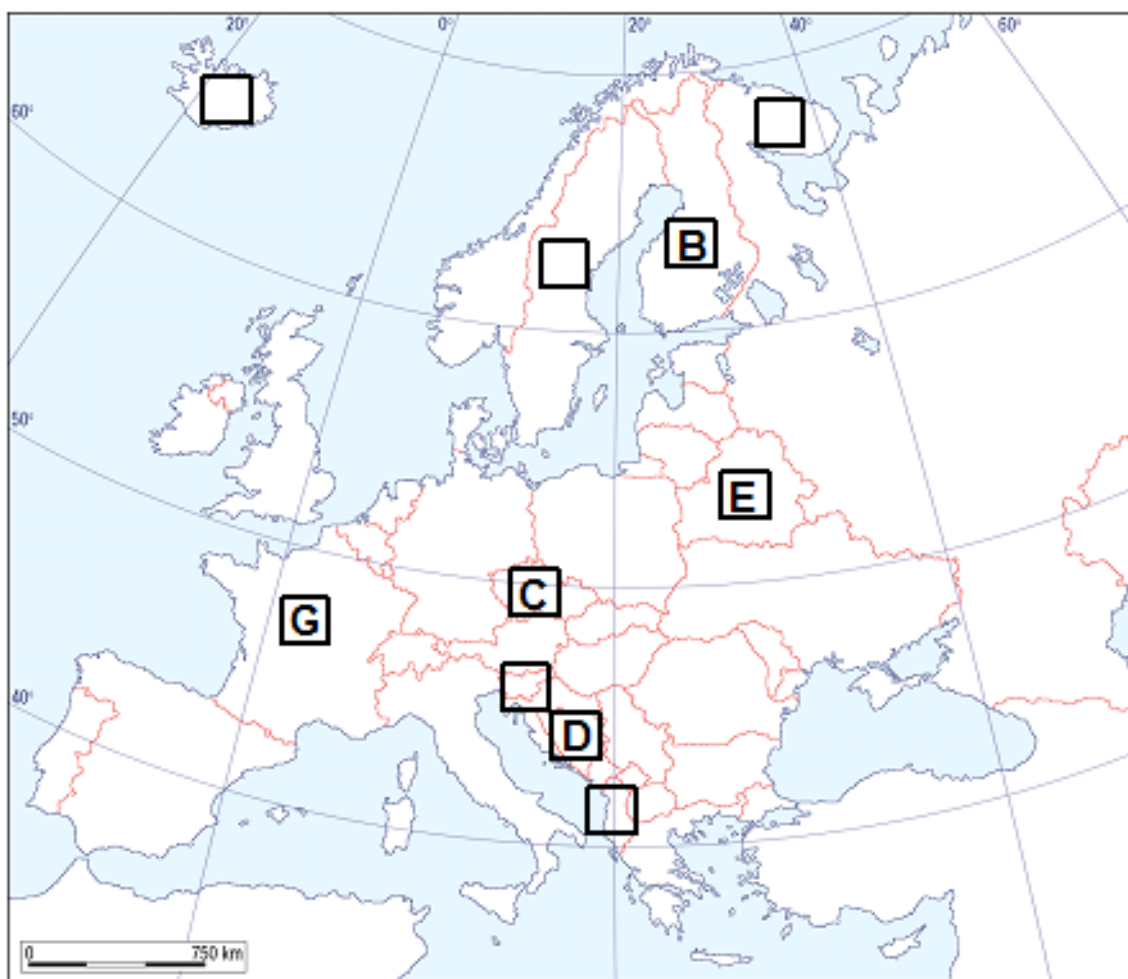
Područje koje ima opće kretanje stanovništva prikazano na dijagramu u međupopisnom razdoblju 2001. – 2011. godina zabilježilo je migracijski saldo od _____ promila.

SLJEDEĆIH PET ZADATAKA RIJEŠI UZ POMOĆ PRILOŽENE GEOGRAFSKE KARTE SVIJETA.



- 1** 27. Među državama na priloženoj geografskoj karti označenima kvadratićima, upiši slovo **D** u kvadratić kojim je označena država s najvećim brojem govornika portugalskog jezika.
- 3** 28. Izvorno ime naroda kojeg danas nazivamo Eskimi je _____. Ime otoka na čijem prostoru živi najveća zajednica Eskima je _____, a taj otok je na karti označen slovom ____.
- 3** 29. Lokalitet Machu Picchu predstavlja ostatke civilizacije _____. U kvadratić na karti upiši slovo **E** u državu u kojoj se danas nalazi taj lokalitet. Ime države u kojoj se danas nalazi taj lokalitet je _____.
- 2** 30. Država u kojoj je najviše govornika dravidske jezične porodice na priloženoj je karti označena slovom _____. Ime države s najviše govornika dravidske jezične porodice je _____.
- 2** 31. Ime države s najviše osoba zaraženih HIV virusom je _____, Upiši slovo **J** u kvadratić na priloženoj karti kojim je označena država s najviše osoba zaraženih HIV virusom.

SLJEDEĆA ČETIRI ZADATKA RIJEŠI UZ POMOĆ PRILOŽENE GEOGRAFSKE KARTE EUROPE.



- 2** 32. Ime države čija je prijestolnica najsjeverniji glavni grad neke države je _____. Upiši slovo **A** na priloženoj geografskoj karti u kvadratić kojim je označena država s najsjevernijim glavnim gradom.
- 3** 33. Ime države označene na karti slovom **B** je _____, a njezin zastupljeniji službeni jezik pripada _____ jezičnoj skupini koja je dio _____ (*upiši naziv*) jezične porodice.
- 1** 34. Država koja ima trimodalni narodnosni sastav stanovništva na priloženoj geografskoj karti označena je slovom ____.
- 2** 35. Ime države koja je na priloženoj geografskoj karti označena slovom **E** je _____.
Među pretežno kršćanskim vjernicima te države najbrojniji su pripadnici _____ vjerske zajednice (vjeroispovijesti).